



COLEGIO PABLO GARRIDO VARGAS

Formando líderes sin distinción

GUÍA DE APRENDIZAJE “HISTORIA Y GEOGRAFÍA”

NOMBRE:		FECHA: Semana 25 28 al 02 de octubre 2020.	CURSO: Tercer Año Básico.
OA07: Distinguir hemisferios, círculo del Ecuador, trópicos, polos, continentes y océanos del planeta en mapas y globos terráqueos.	Unidad 1	Habilidades a desarrollar:	Dibujar. Distinguir, responder, reconocer.
	Ubicación espacial y líneas imaginarias del planeta		
Objetivo de clase: <ul style="list-style-type: none">Resolver ¿Cómo VAMOS? aplicando lo aprendido en guías de trabajo.			
Indicadores de Evaluación: <ul style="list-style-type: none">Dibujan y rotulan en mapas o globos terráqueos la línea del Ecuador, los trópicos, los círculos polares y los polos.Distinguen y rotulan los hemisferios norte y sur.Reconocen y rotulan los continentes y los océanos en mapas o en globos terráqueos.Responden preguntas de ubicación relativa, usando globos terráqueos y mapas, y referencias como la línea del Ecuador, los hemisferios, los puntos cardinales, los continentes y los océanos.Reconocen características generales de los continentes y de los océanos, que les permiten diferenciarlos y compararlos.			
Instrucciones de la Actividad: <ul style="list-style-type: none">Escribir en tu cuaderno de asignatura la fecha y el objetivo de la guía de aprendizaje.Enviar fotografía de ticket de salida desarrollado al correo o WhatsApp de la profesora.Tienes hasta el viernes 02 de octubre de 2020 para desarrollar la guía de aprendizaje.No olvidar que cualquier consulta se debe hacer al correo o WhatsAppUtiliza el video de apoyo que se presenta a continuación.			
Sitio web recomendado: https://www.youtube.com/watch?v=2wKsgM2QZfg&t=152s			
Docente: Daniela Palma, Jhoselyn García.	Correo: 3roA: Jhoselyn.garcia@colegio-pablogarrido.cl 3roB: daniela.palma@colegio-pablogarrido.cl	Horario de Consultas: 8:30 a 12:45 horas	



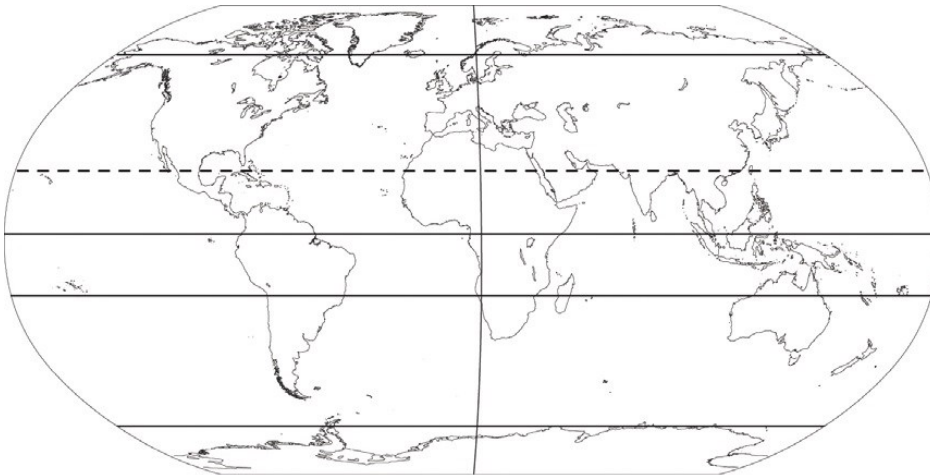
hola, ¿cómo estás? Espero te encuentre muy bien junto a tu familia.

Hoy resolveremos ¿Cómo VAMOS? Para así aplicar lo que hemos aprendido en nuestras guías de trabajo

>Sigue las instrucciones para desarrollar tu guía de trabajo.

- ❖ Escribe el objetivo de la clase, junto a los cuadros de texto con su propósito en tu cuaderno.
- ❖ Lee de manera comprensiva la información que se te presenta.
- ❖ Una vez leída comienza, responder las alternativas.
- ❖ Una vez que termines debes enviar la fotografía, no olvides escribir tu nombre.

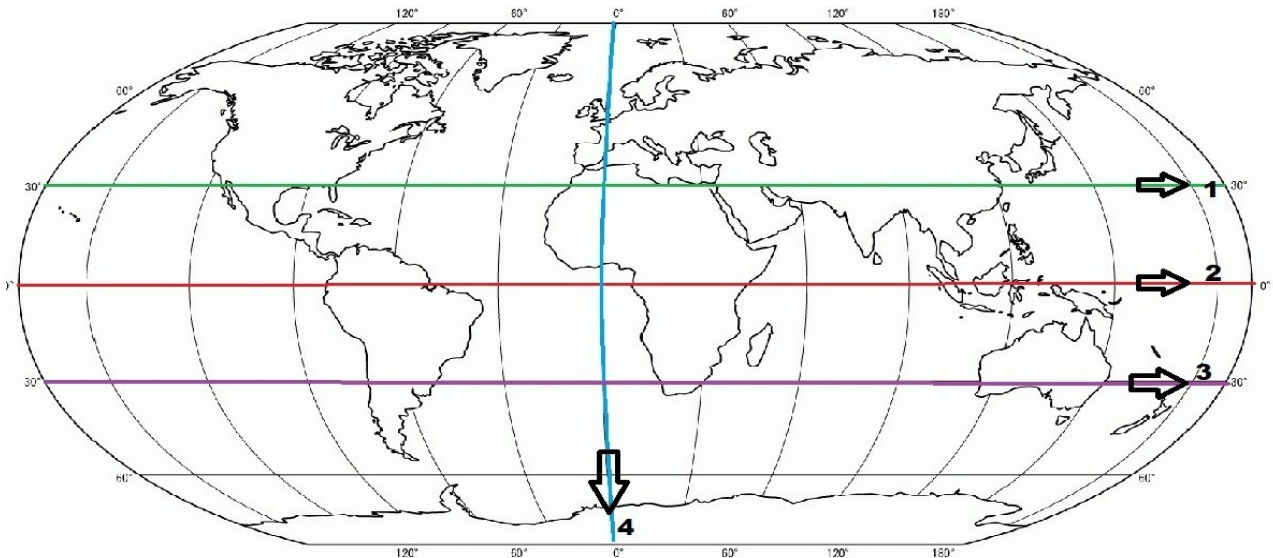
1. Observa el planisferio y responde.



¿Qué paralelo está marcado con una línea punteada en el planisferio?

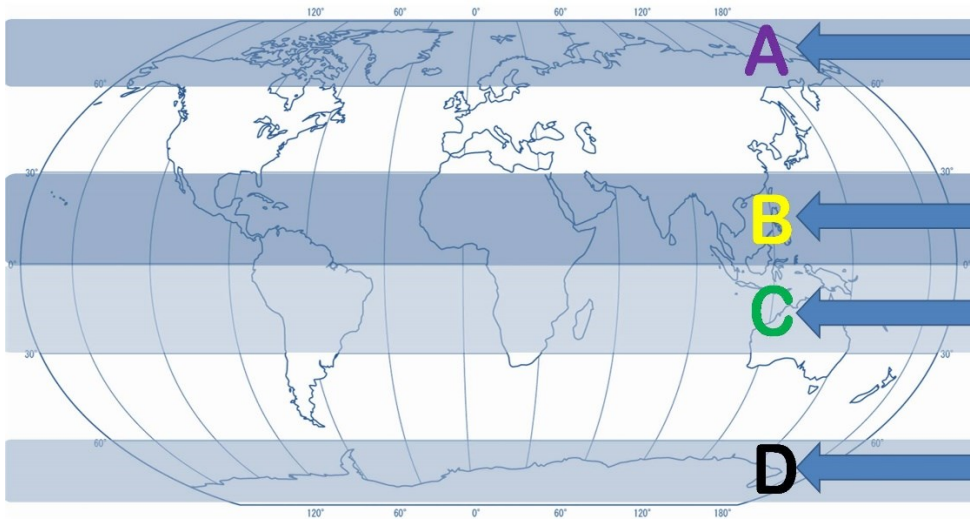
- A) Círculo Polar Ártico.
- B) Trópico de Cáncer.
- C) Trópico de Capricornio.
- D) Círculo Polar Antártico.

2. Observe la siguiente imagen y luego responda.



- ¿Cuál número corresponde a la línea que cubre al círculo del Ecuador?
 - 1
 - 2
 - 3
 - 4

2. Observe la siguiente imagen y luego responda.



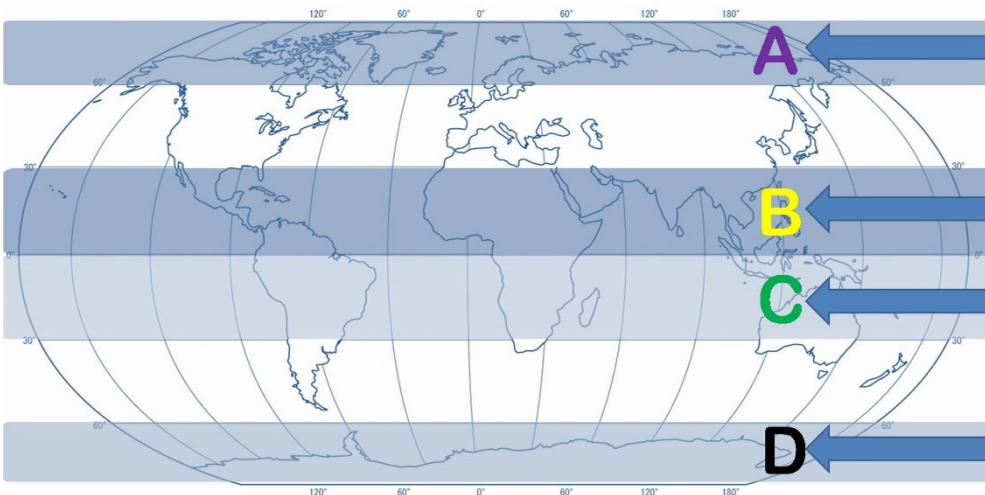
¿Con qué franja se está representado el trópico de cáncer?

Letra A

Letra B

Letra C

3. Observe la siguiente imagen y luego responda.



¿Con cuál letra está representado el círculo polar ártico?

- Letra A
- Letra B
- Letra C
- Letra D

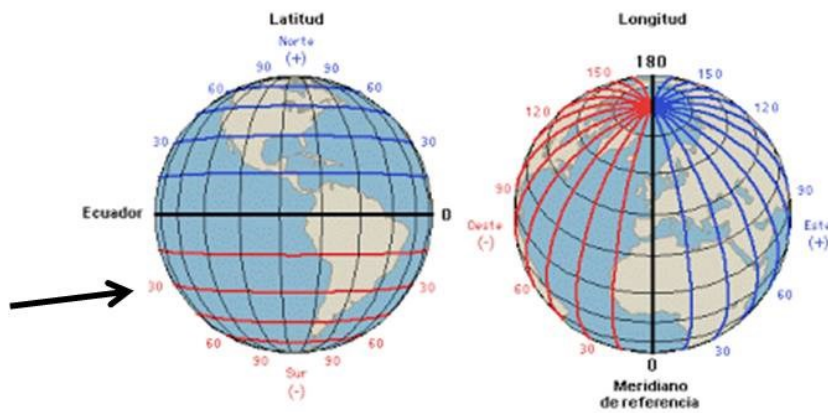
4. Observe la siguiente imagen y luego responda.



¿Qué océano se encuentra al oeste de América?

- A. Ártico
- B. Índico
- C. Atlántico
- D. Pacífico

5. ¿Qué hemisferio está siendo señalado con una flecha?



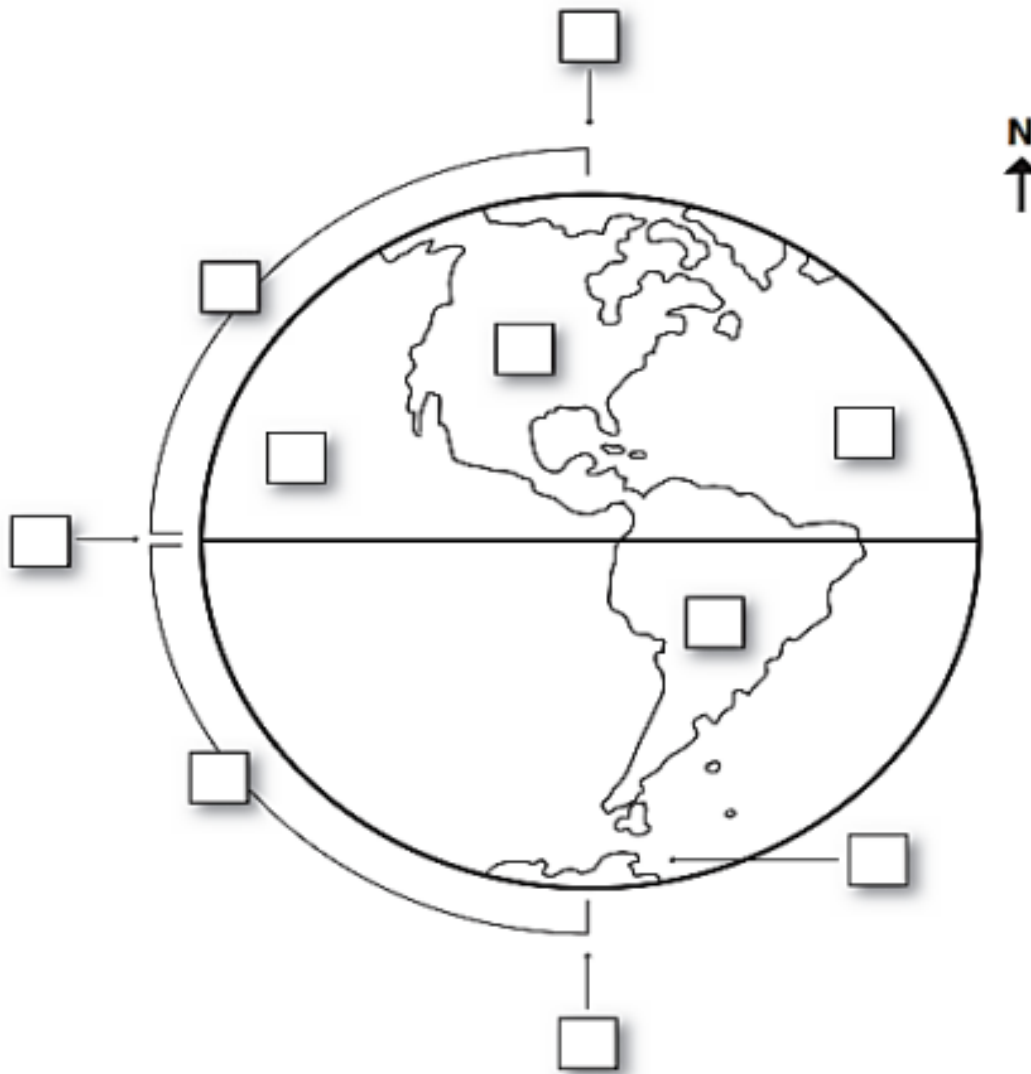
- A) Hemisferio norte
- B) Hemisferio Oriental
- C) Hemisferio Sur
- D) Hemisferio Occidental

6. Observa la siguiente imagen, completa cada cuadrado con el número correspondiente, según lo indica el recuadro de la simbología

Simbología

.....

- | | |
|----------------------|----------------------|
| 1. Línea del Ecuador | 6. Océano Atlántico |
| 2. Hemisferio Norte | 7. Océano Pacífico |
| 3. Hemisferio Sur | 8. América del Sur |
| 4. Polo Norte | 9. América del Norte |
| 5. Polo Sur | 10. Antártica |



7. Apoyándose en la imagen dada identificar, pintar y rotular los hemisferios, el círculo del Ecuador, los trópicos, los círculos polares, los continentes y los océanos del planeta.

PLANISFERIO MUDO



a) Traza con un lápiz de cada color la siguiente información:

<u>Rojo</u>	Linéa del Ecuador.
Verde	Trópico de Cáncer.
Café	Tropico de Capricornio.
Naranja	Círculo Polar Ártico.
Morado	Círculo Polar Antártico.
Negro	Meridiano de Greenwich

b) Escribe el nombre de los 2 hemisferios

c) Escribe los nombres de cada continente y océanos.



¡Muy bien!

Nos vemos. Cuidate mucho.