



COLEGIO PABLO GARRIDO VARGAS


"Formando líderes sin distinción"

GUÍA DE APRENDIZAJE

"MATEMÁTICA"

NOMBRE:		FECHA: Semana 23 Del 7 al 11 de septiembre 2020.	CURSO: Primero Básico A y B
OA13: Describir la posición de objetos y personas en relación a sí mismos y a otros objetos y personas, usando un lenguaje común (como derecha e izquierda).	Unidad 4 "Sumar y Restar hasta el 20"	Habilidades a desarrollar:	-Identificar -Describir
Objetivo de clase: <ul style="list-style-type: none">Identifican y describen la posición de objetos y personas en relación a sí mismos y otros.			
Indicadores de Evaluación: <ul style="list-style-type: none">Describen la posición de objetos y personas con relación a sí mismos y a otros.			
Instrucciones de la Actividad: <ul style="list-style-type: none">Trabajan guía de Posición de objetosArchivar guías a tú carpetaDebes trabajar con un adulto la guíaNo olvides que cualquier consulta se debe hacer al correo de la profesoraUtiliza el video de apoyo que se presenta a continuación			
Sitio web recomendado: https://youtu.be/3wdLezvyPQI https://youtu.be/X3ryVQxBJaQ			
Docente: Cecilia Soto y Tatiana Samaniego	Correo: Profesora 1° A cecilia.soto@colegio-pablogarrido.cl Profesora 1° B: Tatiana.samaniego@colegio-pablogarrido.cl	Horario de Consultas: 8:30 a 14:00 horas	

¡Hoy trabajaremos en describir ubicaciones respecto a ustedes!



1.- Observa la imagen, y responde con ayuda de un adulto, encerrando la respuesta correcta:



a. ¿Quién está **delante** de ti?



b. ¿Quién está **detrás** de ti?



c. ¿Quién está a tu **lado izquierdo**?



Para describir la ubicación de objetos o personas en relación a ti, puedes utilizar lenguaje como:



2.- Escribe con ayuda, lo que está de acuerdo a tú ubicación en la casa, cuando estes trabajando la guía:


a) ¿Qué tienes a tú lado izquierdo?

b) ¿Qué tienes a tú lado derecho?


c) ¿Qué hay detrás de ti?


e) ¿Qué hay delante de ti?


3.- haz un ticket \checkmark a los animales que están mirando a tú derecha y una X a los animales que están mirando a la izquierda



4.- Observa la imagen y encierra la palabra que completa cada frase:

a.  está delante de ti.
 detrás

b.  está delante de ti.
 detrás

c.  está delante de ti.
 detrás



Ticket de Salida 22

Nombre del Alumno: _____



1.- Responde con ayuda de un adulto:




Completa cada frase con una de las palabras **derecha** o **izquierda**:

El pato  está a la de la niña. 

El niño  está a la del gato. 

El niño  está a la del perro. 

2.- Marca con una X la silla que está detrás de la mesa y con un círculo la silla que está delante de la mesa:





COLEGIO PABLO GARRIDO VARGAS
Formando líderes sin distinción



RUTINA PEDAGÓGICA: MATEMÁTICA Semana 23

Bienvenido(a) a esta nueva semana de trabajo! Ya estamos en Septiembre y se nos vienen las Fiestas Patrias. Espero lo pases muy bien junto a tu familia, sin olvidar que hay que seguir cuidándonos.

Hoy vamos a trabajar la **ubicación de ciertos objetos**.

Mira a esta pareja de cueca y responde las preguntas de más abajo marcando con una X tu respuesta.



1) El varón tiene el pañuelo:

- a) Bajo la cabeza.
- b) Sobre la cabeza.

2) Las espuelas el varón las usa:

- a) Sobre la rodilla.
- b) Bajo la rodilla.

3) El delantal de la dama esta:

- a) Sobre la cintura.
- b) Bajo la cintura.

4) El pañuelo la dama lo tiene:

- a) Bajo los hombros.
- b) Sobre los hombros.

Esta actividad estuvo bien dieciochera para que así te vayas preparando para festejar junto a tu familia.

