



COLEGIO PABLO GARRIDO VARGAS

Formando líderes sin distinción

GUÍA DE APRENDIZAJE
“HISTORIA, GEOGRAFÍA Y CIENCIAS SOCIELES”

NOMBRE:		FECHA: Semana 17 27 al 30 de julio 2020.	CURSO: Segundo básico A -B
OA 1: Describir los modos de vida de algunos pueblos originarios de Chile en el período precolombino, incluyendo ubicación geográfica, medio natural en que habitaban, vida nómada o sedentaria, roles de hombres y mujeres, herramientas y tecnología, principales actividades, vivienda, costumbres, idioma, creencias, alimentación y fiestas, entre otros.	Unidad 2	Habilidades a desarrollar:	<ul style="list-style-type: none">• Reconocer.• Aplicar.• Comparar
	Identidad y Sociedad		
Objetivo de clase: <ul style="list-style-type: none">• Reconocen modos de vidas, comparan e ilustran los modelos de vivienda de los pueblos estudiados.			
Indicadores de Evaluación: <ul style="list-style-type: none">• Caracterizan el modo de vida de los pueblos estudiados, distinguiendo entre nómades y sedentarios.• Ilustran y comparan modelos de vivienda de los pueblos estudiados.			
Instrucciones de la Actividad: <ul style="list-style-type: none">• Leer contenido de la guía atentamente.• Escribe fecha y objetivo de la clase en tu cuaderno de Historia, geografía y Cs. Sociales.• Escribe la respuesta de cada actividad en tu cuaderno de asignatura.• No olvidar que cualquier consulta se debe hacer al correo o vía mensaje WhatsApp• Utiliza el video de apoyo que se presenta a continuación.• Debes enviar la fotografía del ticket de salida realizado a tu profesora.			
Sitio web recomendado: https://www.youtube.com/watch?v=4smoAoFwenI			
Docente: Lorena Troncoso Paula Aliaga	Correo: paula.aliaga@colegio-pablogarrido.cl lorena.troncoso@colegiopablogarrido.cl	Horario de Consultas: 8:30 a 17:00 horas	

Bienvenido/a estimado/a estudiante, hoy vamos a continuar hablando de los pueblos originarios, vamos a identificar a los sedentarios y nómades, además vamos a comparar las viviendas de algunos de estos pueblos.

I.- Para comenzar los invito a recordar, ¿Qué sabemos de los pueblos originarios? Contesta las siguientes preguntas de forma oral, comenta la respuesta con algún adulto de tu hogar.

1.- ¿Qué es un pueblo originario?

2.- ¿Qué pueblo originario recuerdas? ¿Cuáles eran las características de este pueblo?

Muy bien, exactamente los pueblos originarios corresponden a los grupos humanos descendientes de culturas precolombinas que han mantenido sus características culturales y sociales. La mayoría de ellos con su lengua propia.

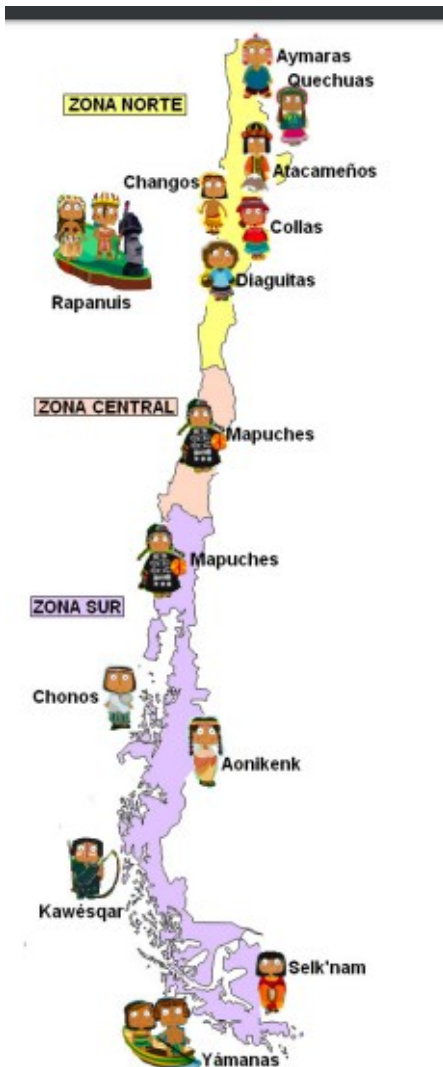


©DESIGNALIKIE

Observemos el siguiente mapa, donde veremos la ubicación de los distintos pueblos originarios de Chile.



©DESIGNALIKIE



II.-Para continuar te invito a observar el mapa y completa el siguiente cuadro con 3 pueblos sedentarios y 3 pueblos nómades. Ocupa los apuntes de las guías anteriores.

Los **pueblos nómadas** son aquellos que No poseen un hogar fijo y establecido, sino que su hogar se encuentra donde ellos mismos se encuentren. ... Por el contrario, los **pueblos sedentarios** son aquellos que se emplazan en una única ubicación y hacen de ella su hogar, modificándola para que satisfaga sus necesidades.





©DESIGNALIKIE

Sedentario	Nómade

III.- Para continuar vamos a recordar a dos pueblos originarios: los mapuches y los changos. Responde en forma oral y comenta con alguien de tu familia.

1. ¿Dónde se ubicaron los changos? ¿A qué se dedicaban? ¿Qué tipo de vida tenían?
2. ¿Dónde se ubicaron los mapuches? ¿A qué se dedicaban? ¿Qué tipo de vida tenían?

Observa las viviendas de estos 2 pueblos compáralas y escribe diferencias y similitudes.

<p>Vivienda de Los Changos.</p>  <p>Vivienda. Los pescadores moraban en toldos de fácil transporte, construido con costillas de ballena, algas y pieles de lobo marino o guanaco. La mayoría de las viviendas estaba cerca de las fuentes de agua dulce y de los lugares de pesca, caza y recolección marina.</p>	<p>Vivienda de Los mapuches</p>  <p>La habitación de los mapuches, llamada ruca, en su lengua, era de paja y de barro, de forma redonda con techo cónico o rectangular con techos de dos aguas. El menaje era bien pobre, dormían en pieles y se sentaban en troncos o piedras.</p>
---	---

<p>Diferencias</p>	<p>Ej. La vivienda de los changos esta hecha de cueros de lobos marinos.</p> <hr/> <hr/>
<p>Similitudes.</p>	<hr/> <hr/>

IV. Para finalizar realizaremos el ticket de salida.

Ticket de salida.

1.-Nombra 2 pueblos sedentarios.

2.- Nombra 2 pueblos nómades.

3.-Dibuja una ruca mapuche y una vivienda del pueblo chango. Escribe una diferencia y una similitud de estas.

