



**COLEGIO PABLO GARRIDO VARGAS**  
*Formando líderes sin distinción*

**GUÍA DE APRENDIZAJE**  
**“Matemáticas”**

NOMBRE:		FECHA: Semana 12 15 al 19 de junio 2020.	CURSO:3ro Básico A-B
OA3: Comparar y ordenar números naturales hasta 1 000, utilizando la recta numérica o la tabla posicional de manera manual y/o por medio de software educativo.	Unidad 1	Habilidades a desarrollar:	Comprender Representar
	Números y operaciones		
Objetivo de clase: <ul style="list-style-type: none"> <li>Ordenar y comparar números en la recta numérica</li> </ul>			
Indicadores de Evaluación: <ul style="list-style-type: none"> <li>Ordenan y comparan números en la recta numérica</li> </ul>			
Instrucciones de la Actividad: <ul style="list-style-type: none"> <li>Ordena y compara números en la recta numérica</li> <li>Escribe el objetivo en tu cuaderno ,copia los contenidos y resuelve los ejercicios</li> <li>Complementa con tu libro de matemáticas páginas 44 a la 51</li> <li>Desarrolla la rutina pedagógica en tu cuaderno</li> <li>Terminada la actividad enviar fotografías al correo o WhatsApp</li> </ul>			
Sitio web recomendado: <a href="https://www.youtube.com/watch?v=iMS71Wz9qU8">https://www.youtube.com/watch?v=iMS71Wz9qU8</a>			
Docente: Jhoselyn García y Daniela Palma	Correo: Jhoselyn.garcia@colegio-pablogarrido.cl daniela.palma@colegio-pablogarrido.cl	Horario de Consultas: 8:30 a 17:00 horas	



**¡¡¡Hola a todos y todas hoy .....!!!!**

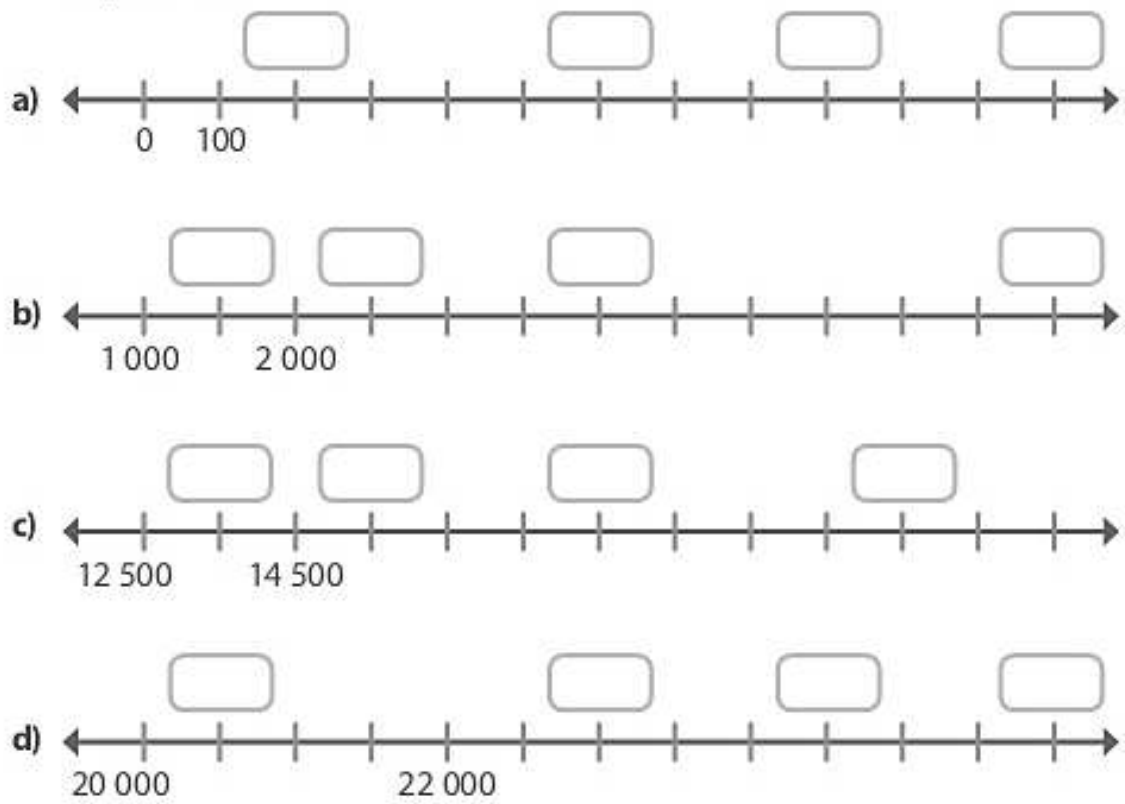
**ORDENAREMOS Y COMPARAREMOS NÚMEROS EN LA RECTA NÚMERICA**  
**ANTES RECORDAREMOS QUE PERMITE LA RECTA NÚMERICA**

Recuerda que:



**La recta numérica permite representar números en forma ordenada.**

- Completa los recuadros en cada recta numérica con los números que correspondan.



a) ¿En qué número comienza cada recta numérica?

---



---



---



---

b) ¿Cuánta distancia hay entre las marcas?

---



---



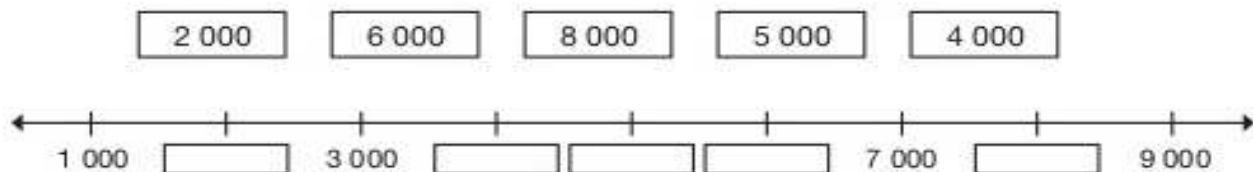
---



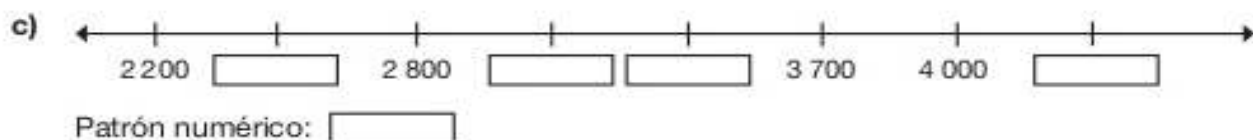
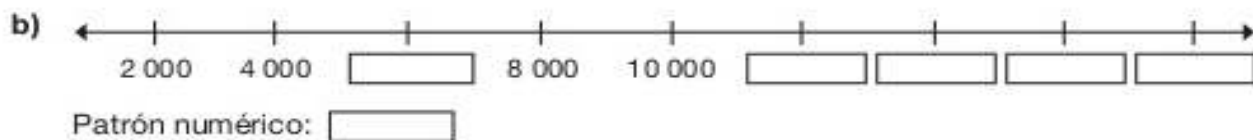
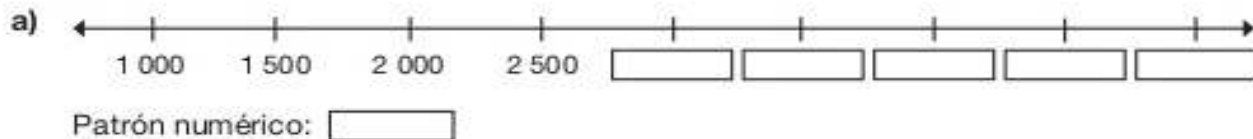
---

## Ejercitemos

1. Ubica en la recta numérica los siguientes números.




2. Completa las rectas numéricas, descubre las claves o patrón numérico.



3. Crea tu propio patrón numérico y completa la recta numérica.



Antes de continuar realiza el siguiente ejercicio cerebral  
Nombra el color que está escrita en la palabra



AMARILLO  
VERDE AMARILLO NEGRO  
NEGRO AZUL VERDE  
VERDE ROJO AZUL AZUL  
AZUL VERDE NEGRO ROJO  
AMARILLO ROJO  
NEGRO ROJO AMARILLO

Complementa con tu libro de matemáticas en las páginas de la 44 a la 51.





COLEGIO PABLO GARRIDO VARGAS  
*Formando líderes sin distinción*

Semana 12

### RUTINA PEDAGÓGICA: MATEMÁTICA

¡Qué gusto verte en esta nueva rutina pedagógica! Vamos a divertirnos con estas adiciones iteradas. Busca el resultados que le corresponde a cada una uniéndola con una línea. Mira el ejemplo

¡Es un buen desafío!

$5+5+5+5+5+5=$	$20$
$5+5+5+5+5+5+5=$	$35$
$5+5+5+5+5+5+5+5=$	$40$
$5+5+5+5+5=$	$15$
$5+5+5=$	$30$
$5+5+5+5=$	$25$

¡Yo sabía que tú podías!  
Genial!

