



**COLEGIO PABLO GARRIDO VARGAS**

*Formando líderes sin distinción*

**GUÍA DE APRENDIZAJE**  
**“Matemáticas”**

NOMBRE:		FECHA: Semana 11 08 al 12 de junio 2020.	CURSO:3ro Básico A-B
OA3: Comparar y ordenar números naturales hasta 1 000, utilizando la recta numérica o la tabla posicional de manera manual y/o por medio de software educativo.	Unidad 1	Habilidades a desarrollar:	Comprender Representar
	Números y operaciones		
Objetivo de clase: <ul style="list-style-type: none"><li>• Ordenar y comparar números en la recta numérica</li></ul>			
Indicadores de Evaluación: <ul style="list-style-type: none"><li>• Ordenan y comparan números en la recta numérica</li></ul>			
Instrucciones de la Actividad: <ul style="list-style-type: none"><li>• Ordenan y comparan números en la recta numérica</li><li>• Terminada la actividad enviar fotografías al correo</li></ul>			
Sitio web recomendado: <a href="https://www.youtube.com/watch?v=iMS71Wz9qU8">https://www.youtube.com/watch?v=iMS71Wz9qU8</a>			
Docente: Jhoselyn García Docente: Daniela Palma Docente PIE: Javiera Avendaño	Correo: <a href="mailto:javiera.a@colegio-pablogarrido.cl">javiera.a@colegio-pablogarrido.cl</a>		Horario de Consultas: 8:30 a 17:00 horas

**Hola a todos y a todas esperamos que se encuentre bien junto a sus familias.**

**Esta semana trabajaremos “LA RECTA NUMÉRICA” y en ella podremos ordenar y comparar números.**

### Sabías que.....


La **recta numérica** es una línea recta que se dibuja en ambos extremos con puntas de flecha, porque es infinita, y en general, está graduada en partes iguales.



En este caso la recta está graduada de 1.000 en 1.000

¿Cómo ubicamos los números en la recta numérica?

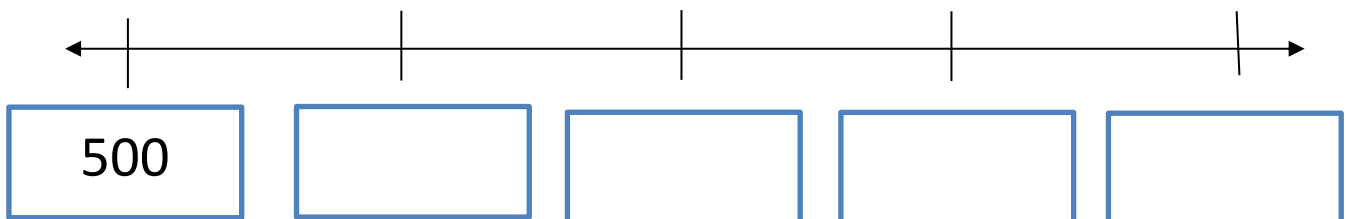
Para **ubicar** números en la **recta numérica** se deben comparar, ordenar de menor a mayor y ubicarlos en el lugar que corresponda de la recta numérica. Los números ubicados a la **izquierda** son **menores** que los ubicados a la **derecha**.



Habilidad: Ordenar y completar


Instrucción: Ordena los números de la nube en la recta numérica.

700 - 500 - 800 - 600 - 900



Habilidad: Unir y Ordenar

Instrucción: Ordena de menor a mayor el valor de estos artículos uniéndolos al casillero y escribiendo el valor en Números como se muestra en el ejemplo.

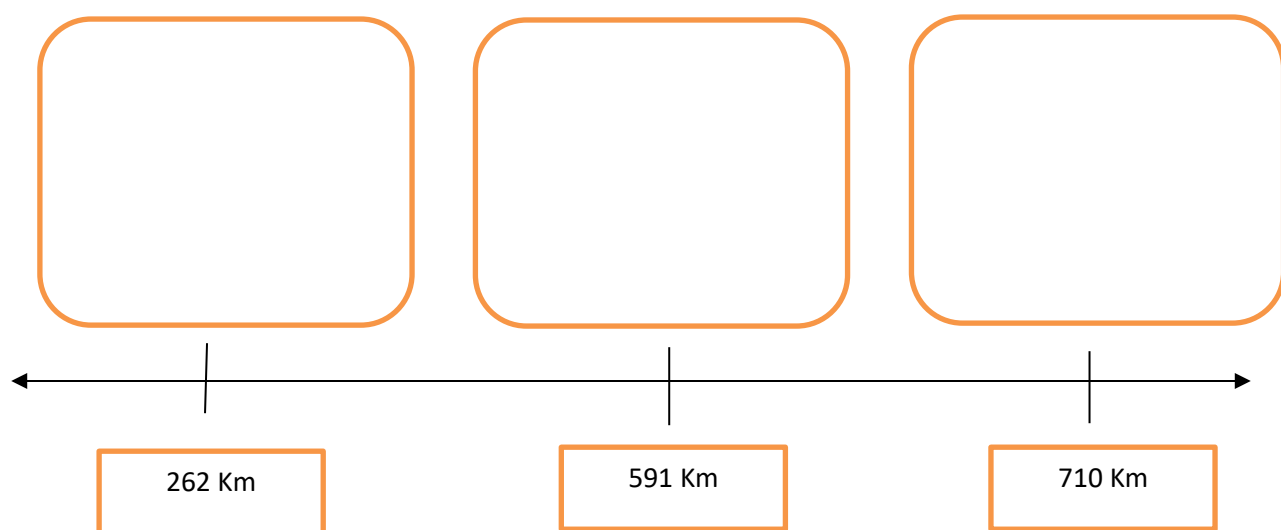


Habilidad: Ubicar, Representar

Instrucción: Ubica la imagen de cada ciudad en la recta numérica según el kilometraje.

Primero observa la siguiente tabla, en donde se representa la distancia entre Arica y algunas localidades.

Imagen	Tramos	Kilometraje
	Arica - Iquique	262 km
	Arica - Antofagasta	710 km
	Arica - Calama	591 km



---

Recortes de las ciudades.

