

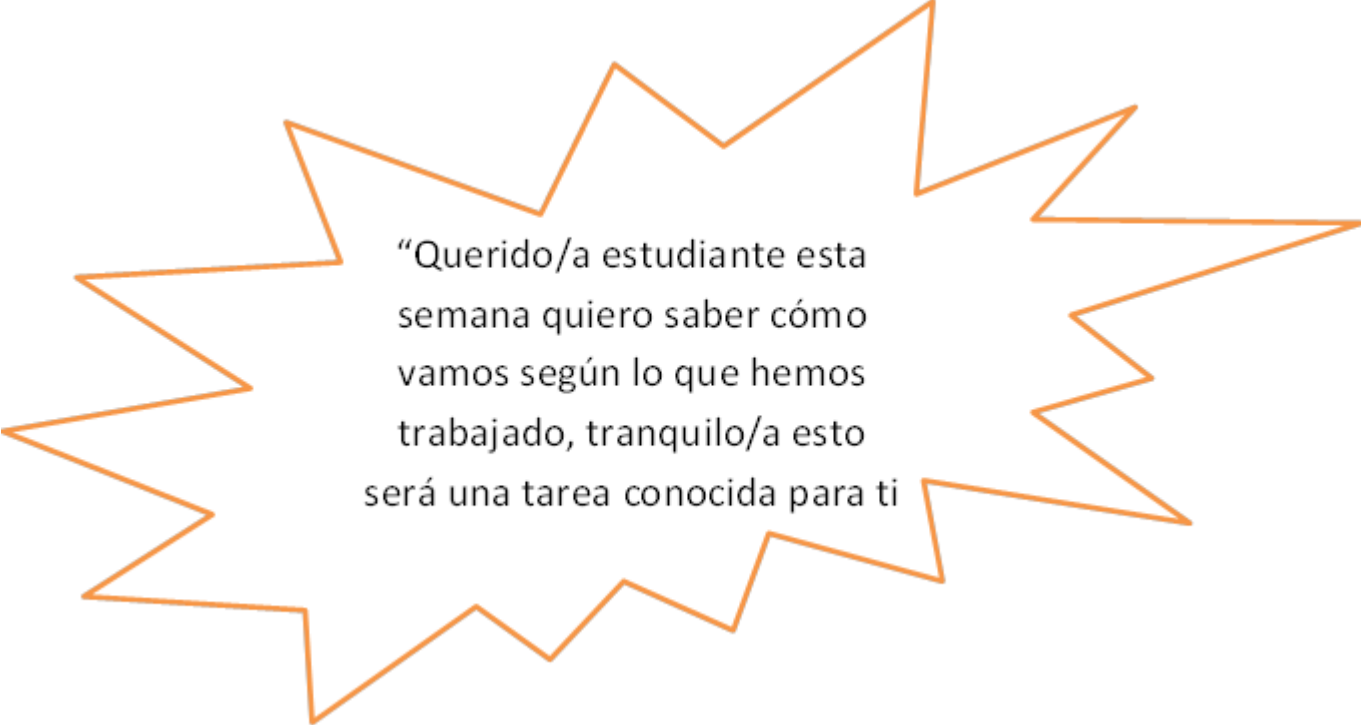


**COLEGIO PABLO GARRIDO VARGAS**

*Formando líderes sin distinción*

**RETROALIMENTACIÓN.  
"MATEMATICAS"**

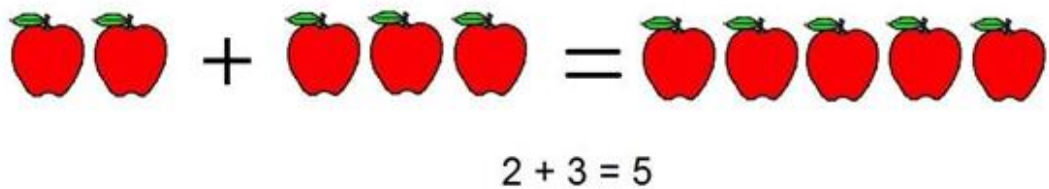
NOMBRE:		FECHA: Semana 15 06 al 10 de julio 2020.	CURSO: Cuarto básico
OA3: Demostrar que comprende la adición y la sustracción de números hasta 1000. Resolviendo problemas rutinarios y no rutinarios.	Unidad 1-2	Habilidades a desarrollar:	Resolver Comprender Descomponer Aplicar
	Números y operaciones.		
Objetivo de clase: <ul style="list-style-type: none"><li>• Resolver situaciones problemáticas utilizando el algoritmo de adición y sustracción.</li></ul>			
Indicadores de Evaluación: <ul style="list-style-type: none"><li>• Utilizan pasos a seguir en problemas matemáticos</li><li>• Aplican el algoritmo de la adición en la resolución de problemas rutinarios.</li></ul>			
Instrucciones de la Actividad: <ul style="list-style-type: none"><li>• Ahora escribe el objetivo de la clase y la fecha en tu cuaderno.</li><li>• Lee comprensivamente las instrucciones y luego desarrolla la actividad.</li><li>• Archiva tu guía en tu carpeta.</li><li>• Si tienes cualquier duda puedes escribirme a mi correo.</li><li>• Tienes 1 semana para realizar tu trabajo.</li></ul>			
Docente: María José Leyton	Correo: maria.leyton@colegio-pablogarrido.cl		Horario de Consultas: 08:00 a 13:30 hrs



“Querido/a estudiante esta semana quiero saber cómo vamos según lo que hemos trabajado, tranquilo/a esto será una tarea conocida para ti

Instrucciones: Resuelve los siguientes ejercicios, lee muy bien las instrucciones y preguntas a desarrollar.

1. Fernanda junta 5 manzanas en total.



Si se come tres de ellas, encierra con una línea cuál de las siguientes operaciones le permite saber la cantidad de manzanas que tendrá finalmente.

$5 - 3 = 2$	$5 + 5 = 10$	$5 + 3 = 8$
-------------	--------------	-------------

2. Luis Felipe ordena su colección de autos y recuerda que eran 20 en total.



a) Completa:

.....autos en total - ..... autos reunidos =          autos perdidos.

b) Encierra con una línea la respuesta correcta:

La operación  $12 + 8 =$           autos le permite saber a Luis Felipe:

- La cantidad de autos perdidos
- La cantidad de autos que tenía en total
- La cantidad de autos que tiene en el momento de ordenarlos.

3. A Javiera le compran globos verdes y morados en el parque.




Completa:

..... globos verdes + ..... globos morados =        globos

Javiera regala los globos verdes, entonces:

.....globos en total - .....globos verdes =        globos morados

4. Observa la siguiente imagen



a) Inventa un problema relacionada con esta imagen

---

---

---

---

---

b) Encierra en un círculo las operaciones que están relacionadas con esta sustracción.

a)  $2 + 4 = 6$

b)  $6 - 4 = 2$

c)  $10 - 4 = 6$

