



## Guía de Aprendizaje Unidad I

Nombre alumno:		Matemáticas.
Curso: 3° básico A-B	Fecha:	
Profesor(a): Jhoselyn García - Daniela Palma G.		
Objetivo de Aprendizaje: Comprenden contenido de operaciones básicas como la adición y la sustracción identificando cada una de sus partes.		
Habilidades: Comprender, identificar, leer, resolver.		

### Instrucciones:

- Se debe registrar en el cuaderno el objetivo
- Lee y comenta con algún familiar sobre la adición y la sustracción.
- Una vez leída la información resuelve, Copiar y resolver ejercicios en su cuaderno.

### I- Resuelve las adiciones de Tristán.

$\begin{array}{r} 557 \\ + 211 \\ \hline \end{array}$	$\begin{array}{r} 448 \\ + 541 \\ \hline \end{array}$	$\begin{array}{r} 635 \\ + 334 \\ \hline \end{array}$	$\begin{array}{r} 717 \\ + 272 \\ \hline \end{array}$	$\begin{array}{r} 824 \\ + 121 \\ \hline \end{array}$
$\begin{array}{r} 438 \\ + 141 \\ \hline \end{array}$	$\begin{array}{r} 174 \\ + 414 \\ \hline \end{array}$	$\begin{array}{r} 722 \\ + 276 \\ \hline \end{array}$	$\begin{array}{r} 372 \\ + 326 \\ \hline \end{array}$	$\begin{array}{r} 362 \\ + 337 \\ \hline \end{array}$
$\begin{array}{r} 265 \\ + 231 \\ \hline \end{array}$	$\begin{array}{r} 512 \\ + 166 \\ \hline \end{array}$	$\begin{array}{r} 257 \\ + 621 \\ \hline \end{array}$		
$\begin{array}{r} 627 \\ + 352 \\ \hline \end{array}$	$\begin{array}{r} 573 \\ + 224 \\ \hline \end{array}$			
$\begin{array}{r} 387 \\ + 612 \\ \hline \end{array}$	$\begin{array}{r} 245 \\ + 511 \\ \hline \end{array}$	$\begin{array}{r} 854 \\ + 124 \\ \hline \end{array}$	$\begin{array}{r} 288 \\ + 611 \\ \hline \end{array}$	$\begin{array}{r} 662 \\ + 113 \\ \hline \end{array}$





II- Ayuda al raton a buscar las estrellas.

$$\begin{array}{r} 911 \\ - 301 \\ \hline \end{array}$$



$$\begin{array}{r} 732 \\ - 121 \\ \hline \end{array}$$



$$\begin{array}{r} 617 \\ - 202 \\ \hline \end{array}$$


$$\begin{array}{r} 535 \\ - 511 \\ \hline \end{array}$$



$$\begin{array}{r} 311 \\ - 310 \\ \hline \end{array}$$




$$\begin{array}{r} 193 \\ - 041 \\ \hline \end{array}$$


$$\begin{array}{r} 175 \\ - 031 \\ \hline \end{array}$$


$$\begin{array}{r} 678 \\ - 270 \\ \hline \end{array}$$


$$\begin{array}{r} 594 \\ - 500 \\ \hline \end{array}$$


$$\begin{array}{r} 988 \\ - 402 \\ \hline \end{array}$$


III- **Inventa 3 adiciones y 3 sustracciones utilizando 3 cifras, igual como las realizadas en los ejercicios anteriores.**