



COLEGIO PABLO GARRIDO VARGAS

“A LA VANGUARDIA CON LA TECNOLOGÍA DIGITAL”
UNIDAD TÉCNICO PEDAGÓGICA

Actividades de Matemática Cuarta Semana Unidad I


Nombre alumno:	
Curso: 1° Básico A y B	Fecha:
Profesor(a): Cecilia Soto y Tatiana Samaniego	
Objetivo de Aprendizaje: OA 2 Identificar el orden de los elementos de una serie, utilizando números ordinales del primero (1º) al décimo (10º).	
Habilidades: Identificar - ordenar	




Instrucciones: Trabajar con un adulto para leer cada actividad

1. Los niños van a la fiesta de Margarita. Observe la imagen:















a) Complete según la posición en que se encuentran los niños (de derecha a izquierda) colocando con palabras o número según corresponda


	Va en primer lugar	Va.....
---	--------------------	---------

	Va en..... lugar	Va..... 2°
	Va en..... lugar	Va.....
	Va en lugar	Va.....


b) Encierre en un círculo la respuesta correcta:

a)	En el séptimo lugar va:			
b)	En el quinto lugar va:			
c)	En el noveno lugar va:			
d)	En el décimo lugar va:			

2. Enumere los pisos del edificio:

	Marque con una X una ventana del quinto piso.
	Encierre con una línea una ventana del tercer piso.
	Dibuje una estrella en el octavo piso.
	Pinte una ventana del sexto piso.

3.-Observe estas imágenes:



Yo llegué primero



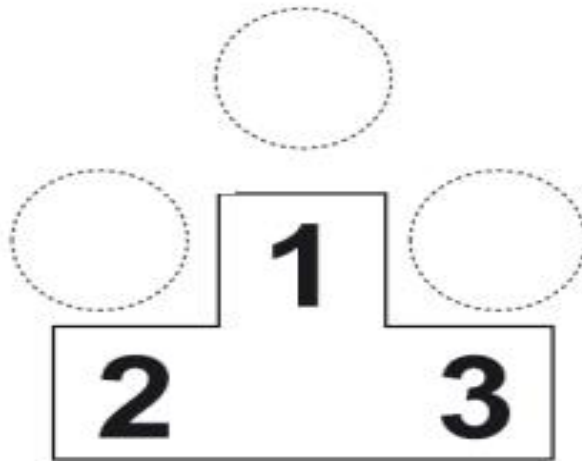
Yo llegué tercero



Yo llegué segundo



Una los niños de la competencia con el podio de acuerdo al orden en que llegaron:



4.-Dibuje las tres actividades que más le gusta realizar con su grupo de amigos. Ordénelas según su preferencia:

1°	2°	3°

3. Si en la lista del curso estoy entre el séptimo y noveno lugar. ¿En qué lugar me encuentro? Encierre la respuesta en un círculo.



Quinto

Octavo

Décimo