



COLEGIO PABLO GARRIDO VARGAS  
“A LA VANGUARDIA CON LA TECNOLOGÍA DIGITAL”  
UNIDAD TÉCNICO PEDAGÓGICA

**Objetivo de Aprendizaje :Conocer números ordinales desde  
1° primer al 10° décimo, siguiendo su orden**

**Instrucciones : Leer cada diapositiva a los niños**

# Números Ordinales

Conociendo los números ordinales





**Voy a aprender a...**

**Conocer los números ordinales.**



**y me va a servir para...**

- **Ordenar**
- **Nombrar posiciones**






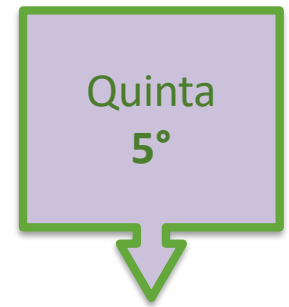
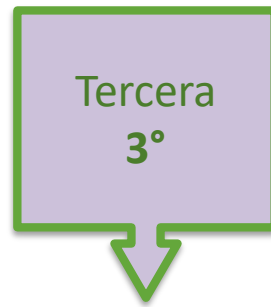
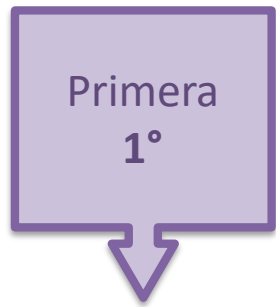





**¡A ordenar!**




Consideremos a las zanahorias ordenadas de izquierda a derecha.




Sexta  
6°




Séptima  
7°









Octava  
8°



Novena  
9°



Décima  
10°



**En los números ordinales se debe  
representar el número con un °**

**Ejemplo 1° Primero**

**2° Segundo**

**3° Tercero**

**4° Cuarto**

**5° Quinto**

# Palabras claves


primero último

antes después

entre



Observa las siguientes figuras que están ordenadas de derecha a izquierda.




El corazón está último

La flecha está entre la cara feliz y la estrella.

La estrella está en el primer lugar.

Observa los siguientes dibujos de animales que están ordenados de izquierda a derecha.



El canguro está en el séptimo lugar (ó 7°)


La tortuga está entre el pato y el elefante.

El pato está entre el caballo y la tortuga

El perro está en el sexto (ó 6°) lugar.

El rinoceronte está último (o en octavo lugar)

El gato está después del elefante.



**¡Muy bien!**